







## Prozentrechnen Online-Test „Straftaten“

Nr.	Aufgaben
1 	<p>Ende März 2012 waren in den Hamburger Justizvollzugsanstalten 1 352 Strafgefangene und Sicherungsverwahrte inhaftiert, das sind drei Prozent weniger als im Vorjahr, so das Statistikamt Nord.</p> <p>Wie viel Strafgefangene waren es im Vorjahr (Grundwert)?_____</p> <p>A. 1394 Inhaftierte B. 1352 Inhaftierte C. 1346 Inhaftierte D. 1325 Inhaftierte</p>
2 	<p>Von den 1352 Inhaftierten waren nur fünf Prozent Frauen. Sind Männer straffälliger oder sind Frauen schlauer und lassen sich nicht erwischen? Wie viel Frauen waren inhaftiert?</p> <p>Antwort_____</p> <p>A. 68 Frauen B. 86 Frauen C. 63 Frauen D. 93 Frauen</p>
3 	<p>Von den 1352 Inhaftierten waren 95 Prozent Männer. Sind Männer straffälliger und gewalttätiger oder sind Frauen schlauer und lassen sich nicht erwischen? Wie viel Männer waren inhaftiert?</p> <p>Antwort _____</p> <p>A. 1284 Männer B. 1428 Männer C. 1248 Männer D. 1257 Männer</p>

4 	<p>Von allen 1352 Inhaftierten waren 946 Personen vorbestraft.</p> <p>Wie viel Prozent waren bereits vorbestraft?</p> <p>Antwort _____</p> <p>A. 70 %</p> <p>B. 65 %</p> <p>C. 60 %</p> <p>D. 75 %</p> <p>E. 55 %</p>
5 	<p>Von den 1352 Inhaftierten verbüßten die meisten Gefangenen eine Freiheits- oder Jugendstrafe von maximal einem Jahr (42 Prozent). Wie viel Personen sind das? _____</p> <p>A. 568 Personen</p> <p>B. 586 Personen</p> <p>C. 685 Personen</p> <p>D. 658 Personen</p> <p>E. 856 Personen</p>
6 	<p>Von den 1352 Inhaftierten verbüßten 16 Prozent der Gefangenen eine Freiheits- oder Jugendstrafe von bis zu zwei Jahren. Wie viel Personen sind das? Antwort _____</p> <p>A. 216 Personen</p> <p>B. 261 Personen</p> <p>C. 621 Personen</p> <p>D. 160 Personen</p> <p>E. 856 Personen</p>

7	<p>Bei 10 Prozent der 1352 Inhaftierten belief sich die Vollzugsdauer auf über fünf bis einschließlich 15 Jahre.</p> <p>Wie viel Personen sind das? Antwort _____</p> <p>A. 135 Personen                  B. 153 Personen                  C. 315 Personen                  D. 352 Personen                  E. 856 Personen</p>															
8	<p>Bei 4 Prozent der 1352 Inhaftierten belief sich die Vollzugsdauer auf eine lebenslange Haftstrafe. Wie viel Personen sind das?</p> <p>Antwort _____</p> <p>A. 54 Personen                  B. 46 Personen                  C. 94 Personen                  D. 49 Personen                  E. 856 Personen</p>															
9	<p>Von den 1352 Inhaftierten haben die Gefangenen verschiedene Straftaten begangen. Sortieren Sie die Anzahl der Personen den Prozenten mit Pfeilen zu.</p> <table border="1" style="width: 100%; border-collapse: collapse;"> <thead> <tr> <th style="width: 15%;">Prozentsatz</th> <th style="width: 20%;"></th> <th style="width: 65%;">Prozentwert</th> </tr> </thead> <tbody> <tr> <td>14 %</td> <td></td> <td>Drogendelikte und Betäubungsmittel 216 Personen</td> </tr> <tr> <td>16 %</td> <td></td> <td>Diebstahls und Unterschlagung 297 Personen</td> </tr> <tr> <td>11 %</td> <td></td> <td>Körperverletzung 149 Personen</td> </tr> <tr> <td>22 %</td> <td></td> <td>Raub und Erpressung 189 Personen</td> </tr> </tbody> </table>	Prozentsatz		Prozentwert	14 %		Drogendelikte und Betäubungsmittel 216 Personen	16 %		Diebstahls und Unterschlagung 297 Personen	11 %		Körperverletzung 149 Personen	22 %		Raub und Erpressung 189 Personen
Prozentsatz		Prozentwert														
14 %		Drogendelikte und Betäubungsmittel 216 Personen														
16 %		Diebstahls und Unterschlagung 297 Personen														
11 %		Körperverletzung 149 Personen														
22 %		Raub und Erpressung 189 Personen														

10

Betrug und Untreue waren in zehn Prozent aller Fälle bei 135 Personen Grund der Inhaftierung. Wie viel Personen waren insgesamt im Gefängnis?

Antwort: \_\_\_\_\_

A. 1350 Inhaftierte

B. 1530 Inhaftierte

C. 1355 Inhaftierte

D. 135 Inhaftierte

11. Bestimmen Sie anhand des Diagramms die Gesamtanzahl und die Prozentsätze der einzelnen Straftaten!

